

22º ROTEIRO DE ATIVIDADES REMOTAS

2º TRIMESTRE

ESCOLA MUNICIPAL ARTHUR DA COSTA E SILVA.

TURMA: **SALA DE RECURSOS MULTIFUNCIONAL**

GRUPO 2



ALUNO(A): _____

**COMPONENTES CURRICULARES: ARTE - LÍNGUA PORTUGUESA –
MATEMÁTICA**

PERÍODO DE REALIZAÇÃO: DE 02 a 06 DE AGOSTO

Prezados Pais e responsáveis!

Estamos realizando o 22º roteiro de atividades. Como já sabem os alunos estão retornando para a escola de forma escalonada. A escala da sala de recursos foi postada no grupo, sendo que cada criança tem seu dia definido para vir à escola toda semana.

Qualquer dúvida estou à disposição.

Um abraço carinhoso.

Professora: Josiane

COMO VAMOS ESTUDAR OS CONTEÚDOS?

POR MEIO DAS ATIVIDADES ENVIADAS PELA PROFESSORA VIA WHATS APP A SEREM REALIZADAS NO ROTEIRO

COMO VAMOS REGISTRAR O QUE APRENDEMOS?

POR MEIO DE LEITURA, REGISTRO NO ROTEIRO E FOTOS ENVIADAS PARA A PROFESSORA.




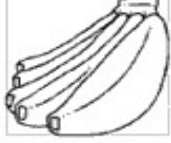








PARA QUÊ VAMOS ESTUDAR ESSES CONTEÚDOS?

- IDENTIFICAR O NÚMERO DE SÍLABAS NAS PALAVRAS
- ESCREVER E LER PALAVRAS
- COMPLETAR QUANTIDADES
- DISTINGUIR NUMERAIS E FAZER ADIÇÕES USANDO MATERIAL DOURADO

- IDENTIFICAR PARTES DO CORPO E MONTAR CORPO HUMANO

ATIVIDADE 1

PINTE AS BOLINHAS CONFORME O NÚMERO DE VEZES QUE VOCÊ ABRE A BOCA PARA FALAR OS NOMES DOS DESENHOS E DEPOIS ESCREVA O NOME DELES COMO SOUBER.

 ○○○○○	 ○○○○○	 ○○○○○	 ○○○○○
 ○○○○○	 ○○○○○	 ○○○○○	 ○○○○○
 ○○○○○	 ○○○○○	 ○○○○○	 ○○○○○

ATIVIDADE 2

PINTE AS SÍLABAS QUE FORMAM OS NOMES DOS DESENHOS.

 BA TA PEI JO XE LO FA

 BOR BO LO LE TA LA

 MA FA VA LA CA TA LE

 PO BO POR PO GO CO

 GA SA RA BO TO DO VA

ATIVIDADE 3

ESCREVA NOVAS PALAVRAS COM A PRIMEIRA SÍLABA DE CADA PALAVRA:



CASA



COLA



BOLO



ABACAXI


ATIVIDADE 4

CIRCULE A PALAVRA DE ACORDO COM A FIGURA :

	SAPO BOLO PATO		COPO FOTO MOTO
	SABONETE CAFÉ BIGODE		PIRULITO SAPATO CAVALO
	BONECA PANELA CAMISA		SACOLA CAMISA RODA
	MOTO BICO SOCO		JACARÉ CABIDE TOMATE
	BALEIA PIPOCA SACOLA		BAMBU TATU CAJU
	MATO SAPO BARCO		CAPACETE SABONETE RABANETE
	NOTA BOTA VELA		JANELA CORUJA SACOLA

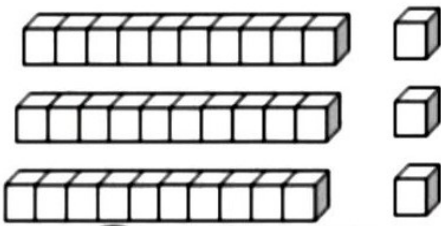
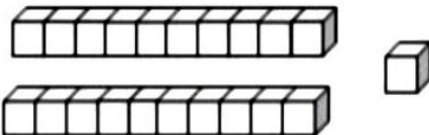
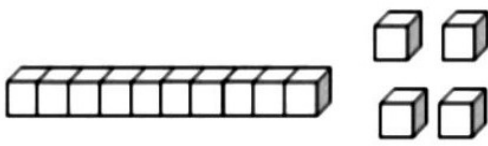
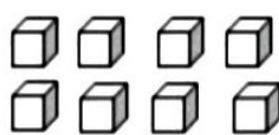
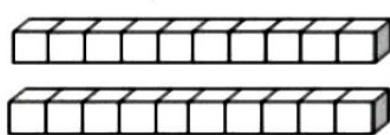
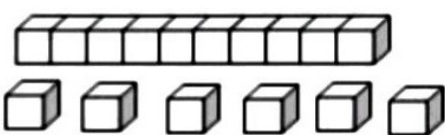
ATIVIDADE 5

COMPLETE OS PEIXINHOS DO AQUÁRIO ATÉ TER 18 PEIXINHOS:



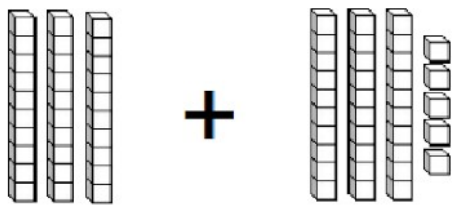
ATIVIDADE 6

CONTE AS DEZENAS E UNIDADES E PINTE O RESULTADO CORRETO:

 <p>35 32 33</p>	 <p>24 21 20</p>
 <p>14 17 15</p>	 <p>10 8 7</p>
 <p>10 20 30</p>	 <p>18 17 16</p>

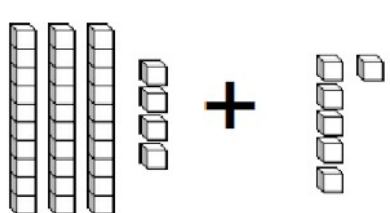
ATIVIDADE 7

SOMANDO COM O MATERIAL DOURADO



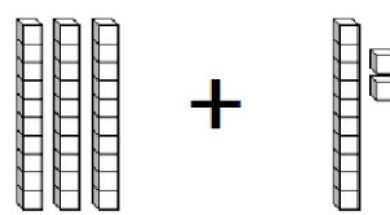
$$\square + \square = \square$$

D	U



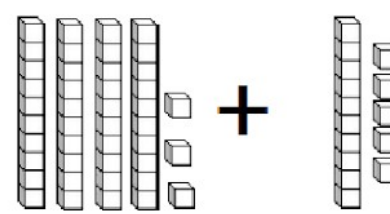
$$\square + \square = \square$$

D	U



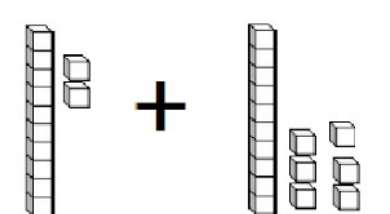
$$\square + \square = \square$$

D	U



$$\square + \square = \square$$

D	U



$$\square + \square = \square$$

D	U

RECORTE AS PARTES DO CORPO E MONTE AS CRIANÇAS:

